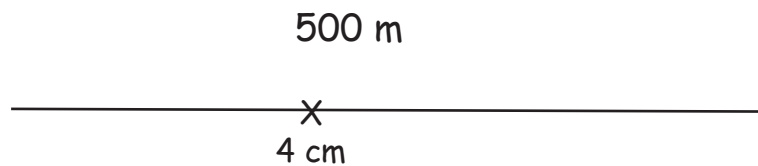
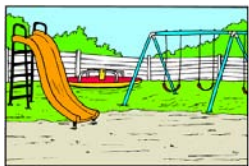


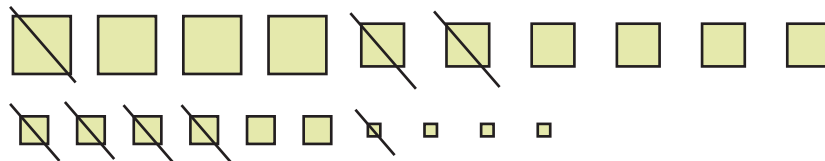
## TESTS DE COMPÉTENCE DIVERS

**1** Le marchand de glaces est à seulement 200 m de l'aire de jeux. Dessine-la au bon endroit !



**2** Quelle soustraction est représentée graphiquement ici ? La taille des carrés correspond à la valeur spécifiée.

- 1 000
- 100
- 10
- 1



4 664 - 1 241      3 423

**3** Connais-tu la bonne réponse ?

Imagine le cadran d'une horloge. Ce cadran est divisé avec un trait allant du chiffre 9 vers le chiffre 3 et un trait du chiffre 12 vers le chiffre 6. Combien de fractions ont été créées ?

Comment s'appelle 1 part ?

4

$\frac{1}{4}$



**4** Quelle réponse est correcte ? Inscris la façon de calculer !

La surface du champ rectangulaire de l'agriculteur M. Guy est de 5 074 m<sup>2</sup>. Quelle est la longueur du champ sachant que la largeur est de 86 m ?

5 074 m<sup>2</sup> ÷ 86 m

=

59 m

