


Es wird mit dem Meterstab gemessen ... mit dem Meterstab gemessen ...

Schätze zuerst und miss dann mit einem Meterstab nach. Kreuze die richtige Antwort an!

1.

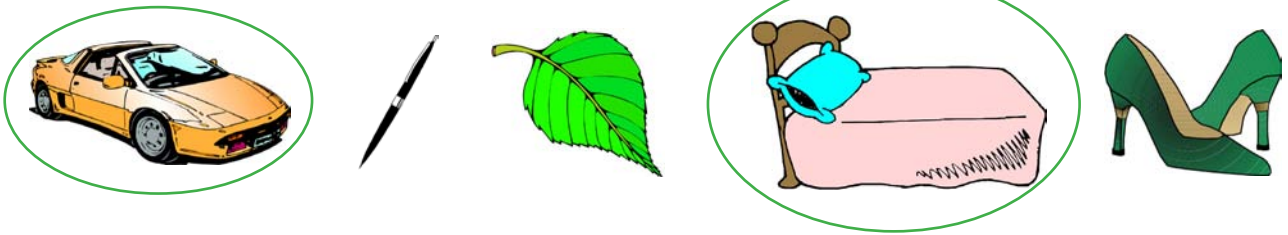
Wie groß bist du?

Ich bin größer als
 kleiner als 1 Meter (m)




2.

Was ist länger als 1 Meter? Kreise diese Gegenstände ein!



3.

Was ist kürzer als 1 Meter? Kreise diese Gegenstände ein!



4.

Nimm den Meterstab und vergleiche. Kreuze richtig an!



länger als 1 m
 kürzer als 1 m

länger als 1 m
 kürzer als 1 m

länger als 1 m
 kürzer als 1 m