

Negative Zahlen addieren und subtrahieren

Stelle die folgenden Rechenaufgaben auf dem Zahlenstrahl dar!



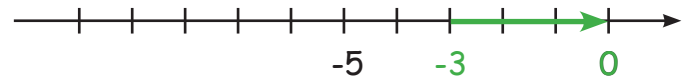
$$\underline{-6 + 3 = -3}$$



$$\underline{-9 + 5 = -4}$$



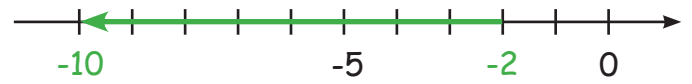
$$\underline{-4 - 4 = -8}$$



$$\underline{-3 + 3 = 0}$$



$$\underline{-6 - 3 = -9}$$



$$\underline{-2 - 8 = -10}$$



$$\underline{-8 + 4 = -4}$$



$$\underline{-7 + 4 = -3}$$

Schreibe die Rechenaufgabe, die auf dem Zahlenstrahl dargestellt wird, auf die Zeilen!



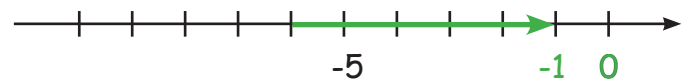
$$\underline{-9 + 7 = -2}$$



$$\underline{-1 - 8 = -9}$$



$$\underline{-2 - 5 = -7}$$



$$\underline{-6 + 5 = -1}$$



$$\underline{-6 + 5 = -1}$$



$$\underline{-4 - 2 = -6}$$



$$\underline{-5 + 3 = -2}$$



$$\underline{-10 + 5 = -5}$$

Negative Zahlen addieren und subtrahieren

Berechne die Aufgaben! Für jede richtige Antwort gibt es einen Lösungsbuchstaben.
Trage sie der Reihe nach unten in das Lösungsfeld ein!

- a.) $-4 + 6 = \underline{2}$ f.) $-14 + 13 = \underline{-1}$ k.) $-24 - 26 = \underline{-50}$
 b.) $-9 + 22 = \underline{13}$ g.) $-18 + 8 = \underline{-10}$ l.) $-27 + 32 = \underline{5}$
 c.) $-8 - 6 = \underline{-14}$ h.) $15 - 25 = \underline{10}$ m.) $-28 + 21 = \underline{-7}$
 d.) $9 - 17 = \underline{-8}$ i.) $12 - 24 = \underline{-12}$ n.) $32 - 35 = \underline{-3}$
 e.) $8 - 12 = \underline{-4}$ j.) $20 - 31 = \underline{-11}$ o.) $-36 + 42 = \underline{6}$
 p.) $-45 - 11 = \underline{-56}$



L	A	N	D	S	C	H	I	L	D	K	R	O	E	T	E
---	---	---	---	---	---	---	---	---	---	---	---	---	---	---	---