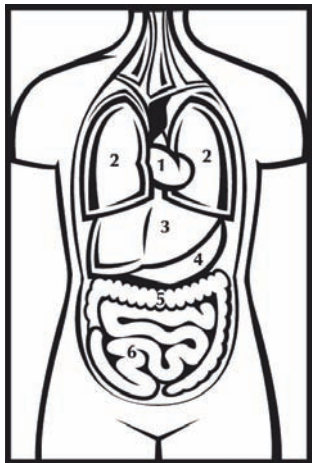



Afin que notre corps fonctionne


Nomme les fonctions des organes :

- coeur : _____
- foie : _____
- estomac : _____
- intestin : _____
- reins : _____
- poumons : _____



Regarde le schéma et complète les différents organes :

- 1 = _____
- 2 = _____
- 3 = _____
- 4 = _____
- 5 = _____
- 6 = _____



Place ton index et majeur sur l'artère de la gorge. Compte les battements de ton coeur pendant 1 minute. Reporte les valeurs :

- au repos : _____
- en mouvement : _____

