















Calculer avec des images

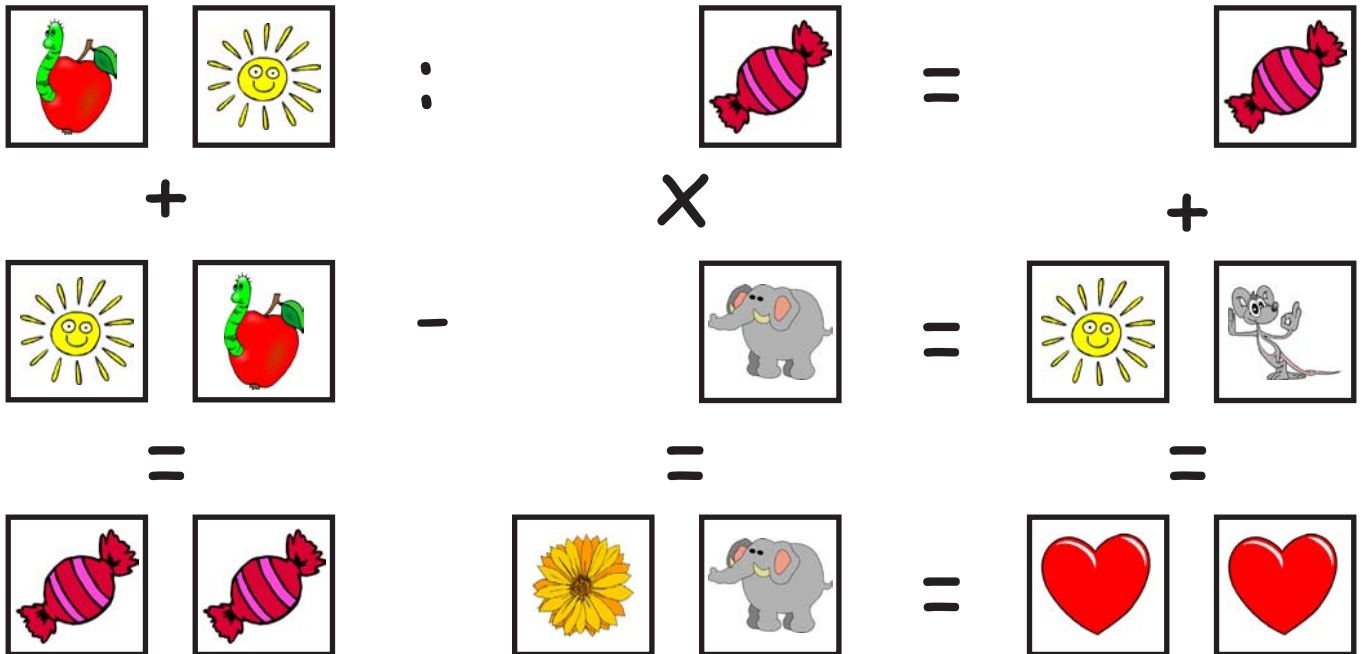
Essaie de résoudre les opérations !
Chaque image équivaut à un chiffre !

		:		=	
-			X		+
		+		=	
=			=		=
				=	
					

Inscris les résultats dans les cases :

<input style="width: 60px; height: 60px;" type="text"/>	<input style="width: 60px; height: 60px;" type="text"/>	:	<input style="width: 60px; height: 60px;" type="text"/>	=	<input style="width: 60px; height: 60px;" type="text"/>
-			X		+
<input style="width: 60px; height: 60px;" type="text"/>	<input style="width: 60px; height: 60px;" type="text"/>	+	<input style="width: 60px; height: 60px;" type="text"/>	=	<input style="width: 60px; height: 60px;" type="text"/>
=			=		=
<input style="width: 60px; height: 60px;" type="text"/>	<input style="width: 60px; height: 60px;" type="text"/>		<input style="width: 60px; height: 60px;" type="text"/>	=	<input style="width: 60px; height: 60px;" type="text"/>
			<input style="width: 60px; height: 60px;" type="text"/>		<input style="width: 60px; height: 60px;" type="text"/>

Rechnen mit Bildern...



Trage deine Lösung in die Kästchen ein:

