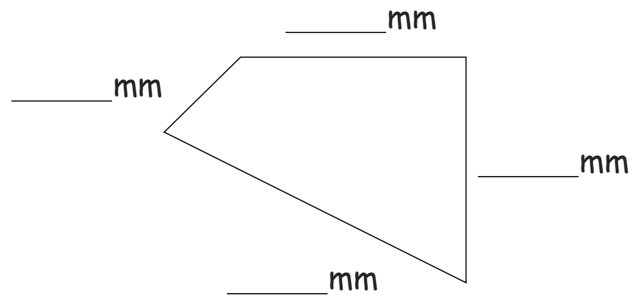
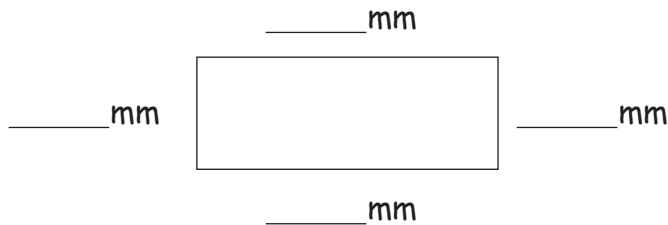




Mesurer les rectangles

1. Le rectangle :

- Mesure les côtés.
- Indique l'angle droit.
- Lequel des 2 dessins est un rectangle ?



2. Repasse en vert les longueurs et en rouge les largeurs :



3. Avec une équerre, dessine un rectangle. Reproduis-le de la même manière que l'exemple !

Attention : le triangle en exemple n'est pas à la bonne dimension.

L = 35 mm

B = 20 mm

