





Calculer avec un tableau - Nombres jusqu'à 10

8				
7				
6				
5				
4				
3				
2				
1				
				

Réponds aux questions. Regarde exactement le graphique.

- Combien de coccinelles en plus par rapport aux papillons ? **6**
- Combien de lucioles en plus par rapport aux chenilles ? **1**
- Quel est le total des papillons et des lucioles ? **7**
- Combien de papillons en moins par rapport aux lucioles ? **3**
- Combien de différence entre chenilles et coccinelles ? **4**
- Quel est le total des chenilles et lucioles ? **9**
- Combien de chenilles en plus par rapport aux papillons ? **2**
- Combien de lucioles en moins par rapport aux coccinelles ? **3**
- Quel est le total des papillons et des chenilles ? **6**