























CHIFFRES ENSORCELÉS

Lilly la sorcière à ensorcelé les chiffres en les transformant en symboles ! Trouve de quels chiffres il s'agit (de 1 à 9) pour chaque symbole de manière à obtenir la somme indiquée derrière les lignes et colonnes ? Un symbole représente toujours un même chiffre.



-  = 1
-  = 2
-  = 3
-  = 4
-  = 5
-  = 6
-  = 7
-  = 8
-  = 9

					24
					26
					15
					22
					30
25	29	19	27	17	