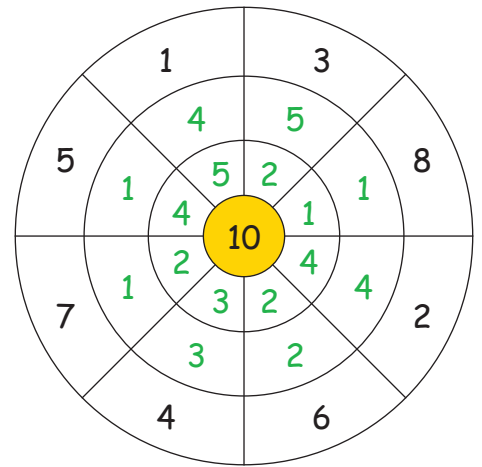
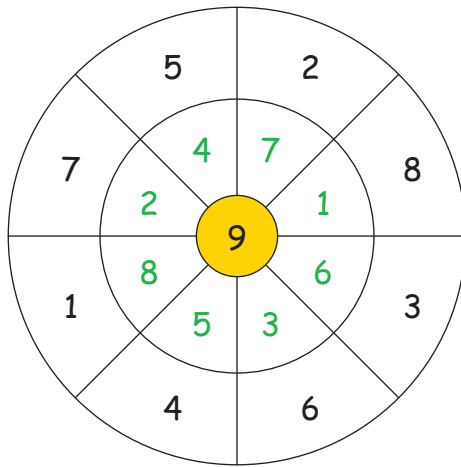
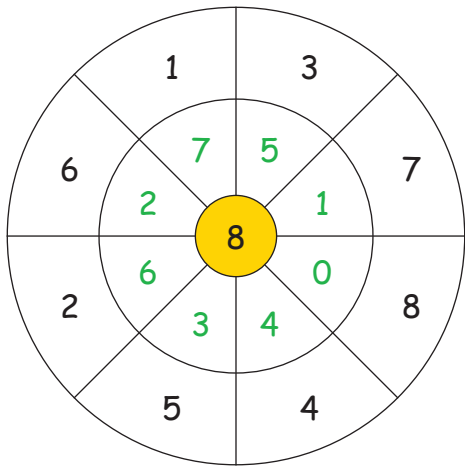


Découvrir et compléter

1. Cercle de calcul :



2. Inversion :

Calcule d'abord les additions et ensuite les soustractions. Que remarques-tu ?

4	+	6	=	10
9	+	1	=	10
2	+	8	=	10
5	+	5	=	10
3	+	7	=	10
0	+	10	=	10
8	+	2	=	10
1	+	9	=	10
6	+	4	=	10
7	+	3	=	10

10	-	6	=	4
10	-	1	=	9
10	-	8	=	2
10	-	5	=	5
10	-	7	=	3
10	-	10	=	0
10	-	2	=	8
10	-	9	=	1
10	-	4	=	6
10	-	3	=	7

3. Plusieurs opérations pour un même résultat :

$2 + \underline{7}$		$1 + \underline{6}$
$3 + \underline{6}$		$4 + \underline{3}$
$5 + \underline{4}$	9	$2 + \underline{5}$
		7
	$9 + \underline{0}$	$6 + \underline{1}$
	$1 + \underline{8}$	$0 + \underline{7}$